











TEMAT : UTRWALANIE CYFR RZYMSKICH

WITAM WAS UCZNIOWI I RODZICE. NA KOLEJNYCH KARTACH PRACY BĘDZIEMY UTRWALAĆ SYSTEM RZYMSKI. NASZ MATEK BĘDZIE TOWARZYSZEM PODCZAS PRACY

 **System rzymski**

1. Zapisz liczby w systemie rzymskim:

									
1	2	3	4	5	6	7	8	9	10

2. Asia była na koncercie swojego ulubionego zespołu. Na pamiątkę zachowała bilet wstępu.

Mocne Uderzenie

Torwar Warszawa
12 VI 2011, godz. 17:00 30 zł
Sektor A rząd XV miejsce 26

Zapisz słownie, w którym rzędzie siedziała Asia.

.....

Zapisz słownie, w którym miesiącu odbył się koncert.

.....

3. Połącz w pary równe liczby. **NAPISZ PARY NA DOLE KARTKI**

