
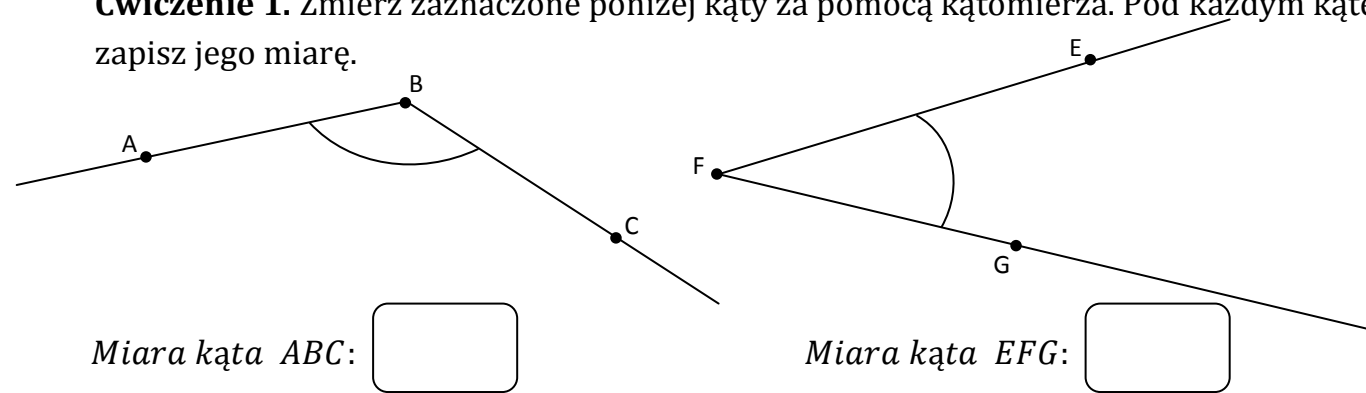


Imię i nazwisko

Klasa IV



**Ćwiczenie 1.** Zmierz zaznaczone poniżej kąty za pomocą kątomierza. Pod każdym kątem zapisz jego miarę.



**Ćwiczenie 2.** Narysuj kąt o mierze:

a)  $90^\circ$

b)  $75^\circ$

c)  $150^\circ$

**Ćwiczenie 3.** Uzupełnij zdania.

Kąt rozwarty ma więcej niż , ale mniej niż . Kąt półpełny ma .

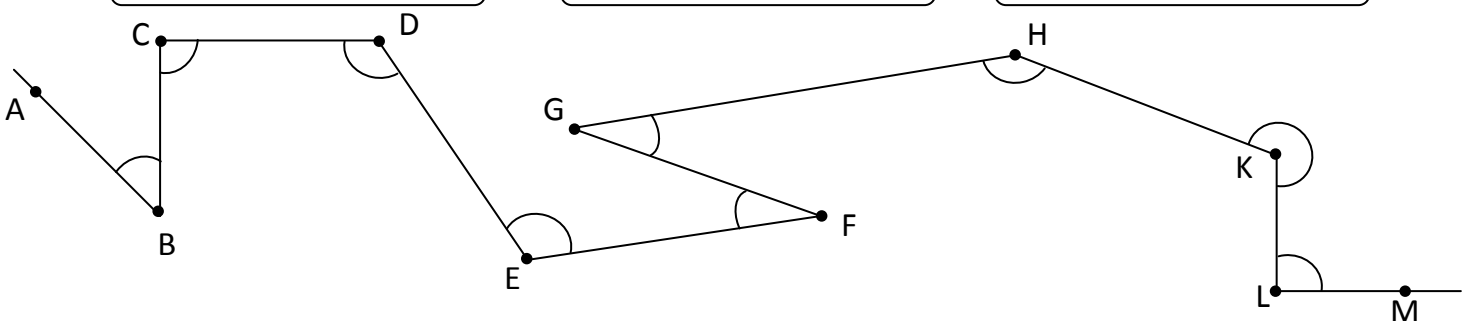
Kąt ostry jest  od kąta .

**Ćwiczenie 4.** Spójrz na kąty zaznaczone na rysunku za pomocą łuku, a następnie wypisz:

a) kąty ostre:


b) kąty proste:

c) kąty rozwarte:

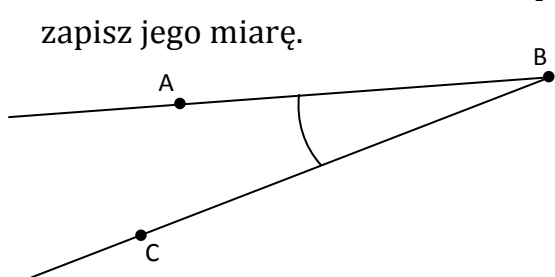


Imię i nazwisko

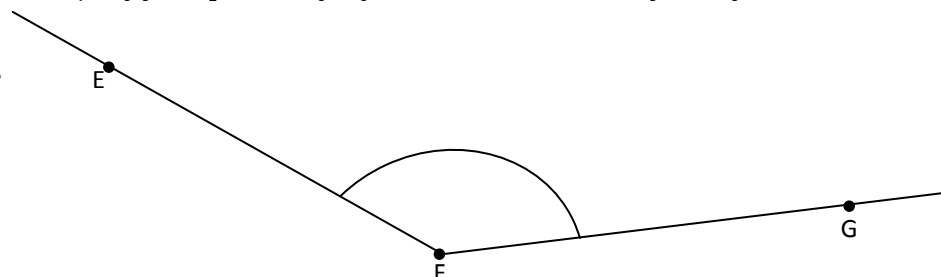
Klasa IV



**Ćwiczenie 1.** Zmierz zaznaczone poniżej kąty za pomocą kątomierza. Pod każdym kątem zapisz jego miarę.



Miara kąta ABC:



Miara kąta EFG:

**Ćwiczenie 2.** Narysuj kąt o mierze:

b)  $180^\circ$

b)  $105^\circ$

c)  $50^\circ$

**Ćwiczenie 3.** Uzupełnij zdania.

Kąt rozwarty jest większy od kąta , ale  od kąta

Kąt ostry ma mniej niż . Kąt prosty ma .

**Ćwiczenie 4.** Spójrz na kąty zaznaczone na rysunku za pomocą łuku, a następnie wypisz:

b) kąty ostre:

b) kąty proste:

c) kąty rozwarte:

