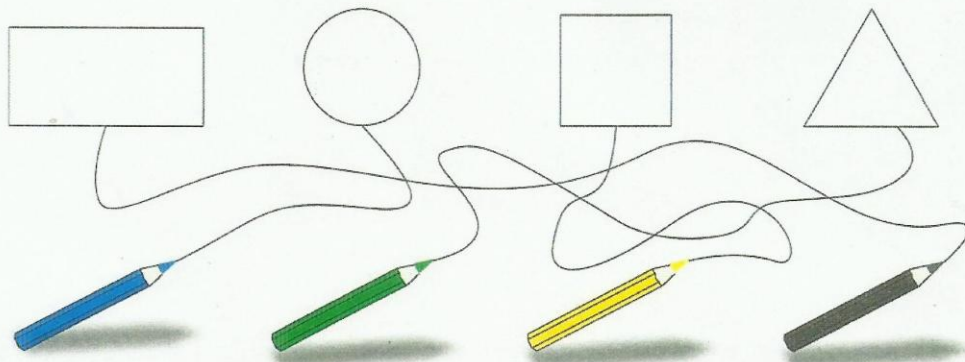



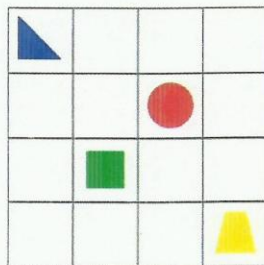
1. Pokoloruj rysunki odpowiednimi kolorami.



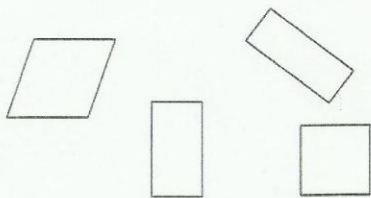
2. Rysuj po śladzie.




3. Narysuj w tych samych okienkach, takie same figury.



4. Pokoloruj .



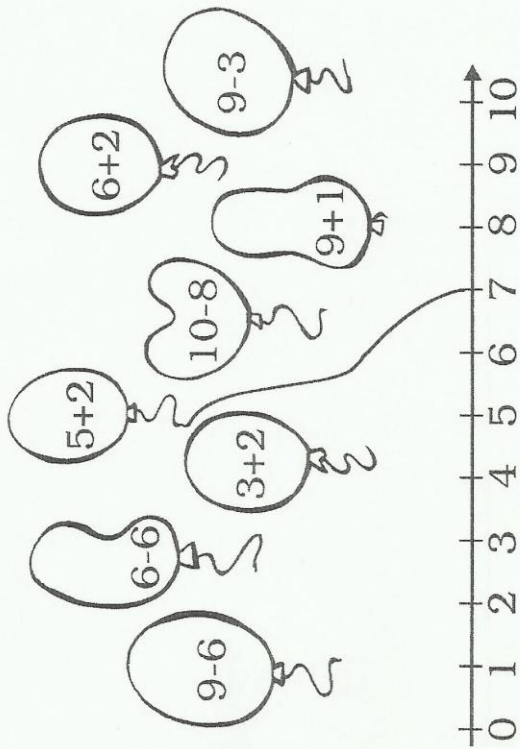
5. Pokoloruj .



rysuj po śladzie



★ Oblicz. Wynik wskaż na osi liczbowej.



★ Narysuj tyle elementów, ile wskazuje liczba.

3	6	2
5	1	4

★ Wypełnij tabelkę wpisując odpowiednie wyniki.

0	2	8
8	7	2

★ Wstaw odpowiedni znak $<$, $=$, $>$.

$4 + 2 \dots$	$6 + 2$	$10 - 2 \dots$	7
$10 - 4 \dots$	$5 + 1$	$4 + 6 \dots$	10
$8 - 3 \dots$	$8 - 5$	$9 \dots$	$10 - 0$
$0 + 7 \dots$	$10 - 2$	$8 \dots$	$4 + 3$
$7 + 2 \dots$	$6 + 3$	$8 - 3 \dots$	5
$9 - 4 \dots$	$10 - 6$	$7 + 1 \dots$	9

★ Nad kwiatami 8 motyli fruwało, 3 motyle odleciały. Ile ich zostało?

$\square - \square = \square$
 Zostało \square motyli.